

| Zahlbereich | | | | | | | | | | | Rechenoperationen | | | | Grundlagen | | | | | | | | | | | |
|-------------|--------|--------|--------|--------|--------|--------|---------|-----------|------------|---------------|-------------------|---------------|--------------|----------|-------------|----------------|----------|--------|----------|--------|--------|----------------|---------------|---------|---------------|---------------------|
| bis 9 | bis 10 | bis 20 | bis 30 | bis 40 | bis 50 | bis 70 | bis 100 | bis 1.000 | bis 10.000 | größer 10.000 | ohne 0 | ohne Übertrag | mit Merkzahl | Addition | Subtraktion | Multiplikation | Division | Brüche | Prozente | Zahlen | Mengen | Ganzes / Teile | Dezimalsystem | Uhrzeit | Volle Stunden | ablesen & eintragen |

Der kleine Zeiger heißt Stundenzeiger und der große Zeiger heißt Minutenzeiger.

74_10_5 [573] Analog Uhr - Uhrzeit, 24 Stunden

Notiere die beiden Uhrzeit unter der jeweiligen Uhr.

24 Stunden – ganze Stunden

Wie spät ist es?



: Uhr
: Uhr



: Uhr
: Uhr




: Uhr
: Uhr



: Uhr
: Uhr



: Uhr
: Uhr



: Uhr
: Uhr



: Uhr
: Uhr




: Uhr
: Uhr




: Uhr
: Uhr



: Uhr
: Uhr



: Uhr
: Uhr



: Uhr
: Uhr

Der kleine Zeiger heißt Stundenzeiger.

Der große Zeiger heißt Minutenzeiger.



| Zahlbereich | | | | | | | | | | Rechenoperationen | | | | | Grundlagen | | | | Uhrzeit | Volle Stunden | ablesen & eintragen | | |
|-------------|--------|--------|--------|--------|--------|--------|---------|-----------|------------|-------------------|--------|---------------|--------------|----------|-------------|----------------|----------|--------|----------|---------------|---------------------|----------------|---------------|
| bis 9 | bis 10 | bis 20 | bis 30 | bis 40 | bis 50 | bis 70 | bis 100 | bis 1.000 | bis 10.000 | größer 10.000 | ohne 0 | ohne Übertrag | mit Merkzahl | Addition | Subtraktion | Multiplikation | Division | Brüche | Prozente | Zahlen | Mengen | Ganzes / Teile | Dezimalsystem |

Der kleine Zeiger heißt Stundenzeiger und der große Zeiger heißt Minutenzeiger.

74_10_5 [573] Analog Uhr - Uhrzeit, 24 Stunden

Notiere die beiden Uhrzeit unter der jeweiligen Uhr.

24 Stunden – ganze Stunden

Wie spät ist es?

Lösung



4 : 00 Uhr
16 : 00 Uhr




2 : 00 Uhr
14 : 00 Uhr



7 : 00 Uhr
19 : 00 Uhr



5 : 00 Uhr
17 : 00 Uhr



6 : 00 Uhr
18 : 00 Uhr



3 : 00 Uhr
15 : 00 Uhr



4 : 00 Uhr
16 : 00 Uhr




7 : 00 Uhr
19 : 00 Uhr




2 : 00 Uhr
14 : 00 Uhr



12 : 00 Uhr
24 : 00 Uhr



3 : 00 Uhr
15 : 00 Uhr



9 : 00 Uhr
21 : 00 Uhr

Der kleine Zeiger heißt Stundenzeiger.

Der große Zeiger heißt Minutenzeiger.

